

Liter und Milliliter

- 1 Immer 4 Angaben gehören zusammen. Male sie mit der gleichen Farbe aus!

$\frac{1}{2}$ l

1000ml

ein viertel Liter

0,75 l

250 ml

$\frac{3}{4}$ l

500 ml

ein Liter

ein halber Liter

1,0 l

750 ml

0,25 l

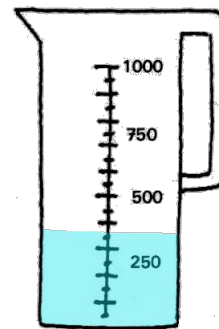
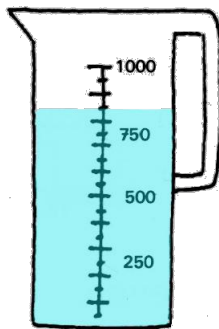
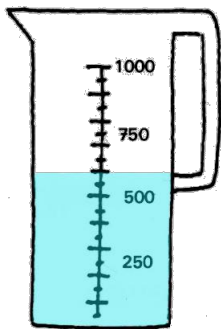
0,5 l

$\frac{1}{4}$ l

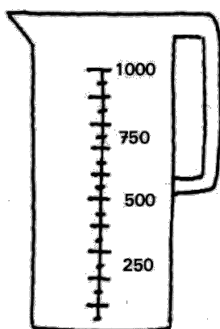
1 l

ein dreiviertel Liter

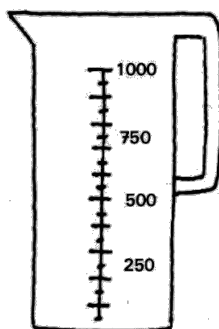
- 2 Das Messgerät für den Rauminhalt (z.B. Flüssigkeiten) ist der Messbecher.
Lies ab!



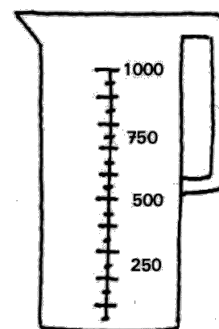
- 3 Zeichne ein!



200 ml



800 ml



350 l